

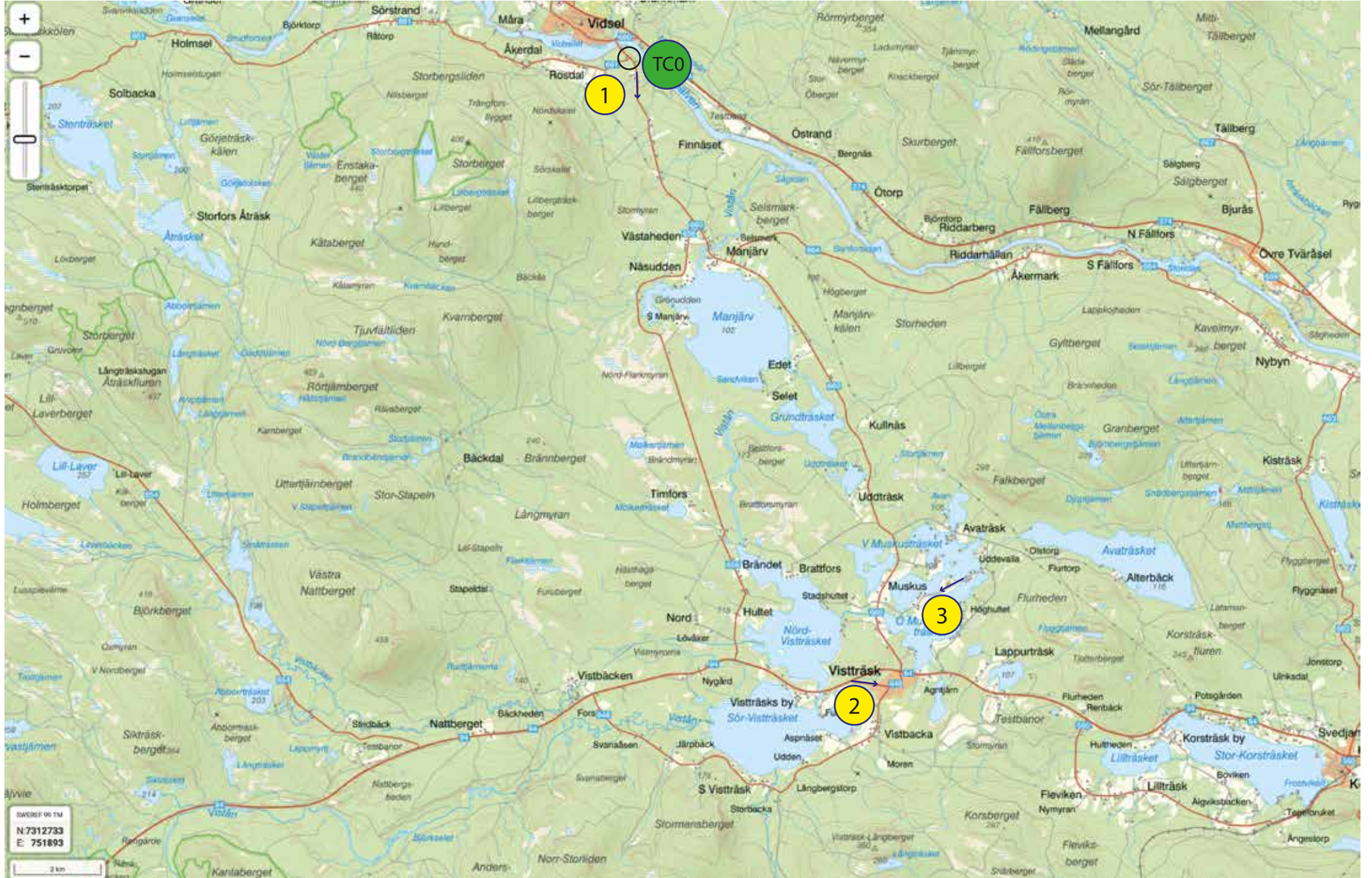
AURORA ROADTRIP 2025

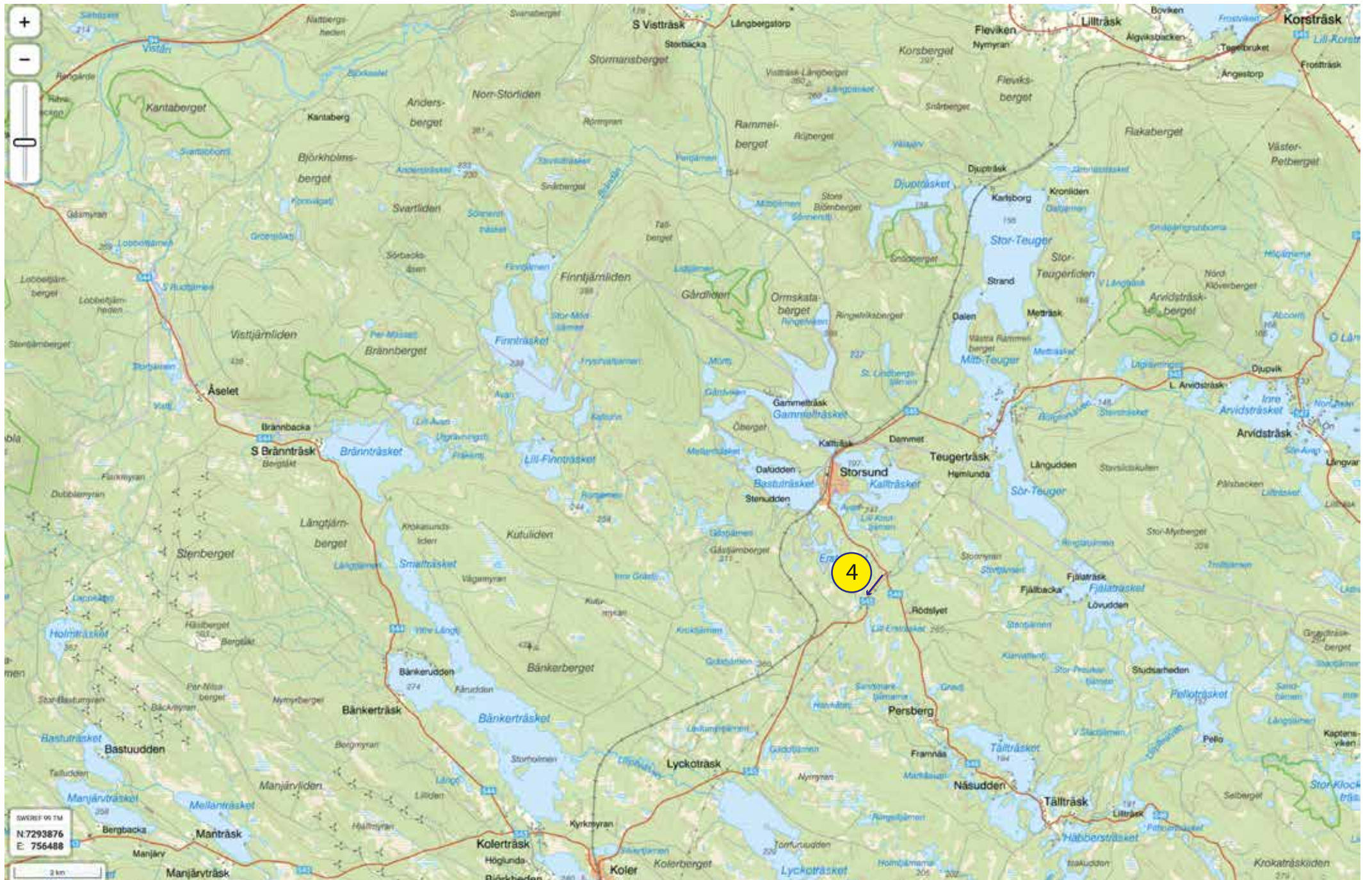
KLASSEMENTSPROEF 5.1

AURORA ROADTRIP
14-01-2025

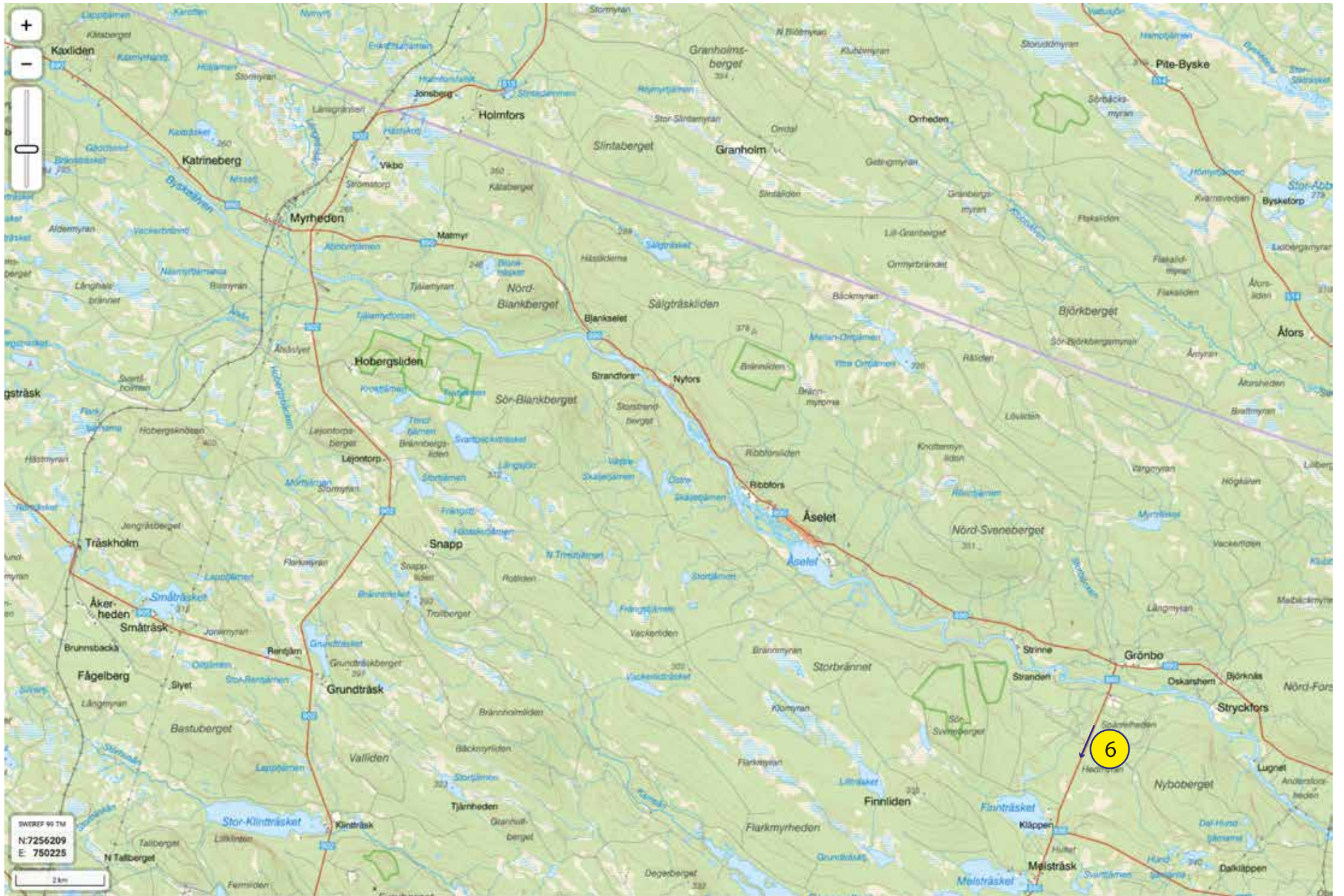
PIJLEN KORTSTE ROUTE

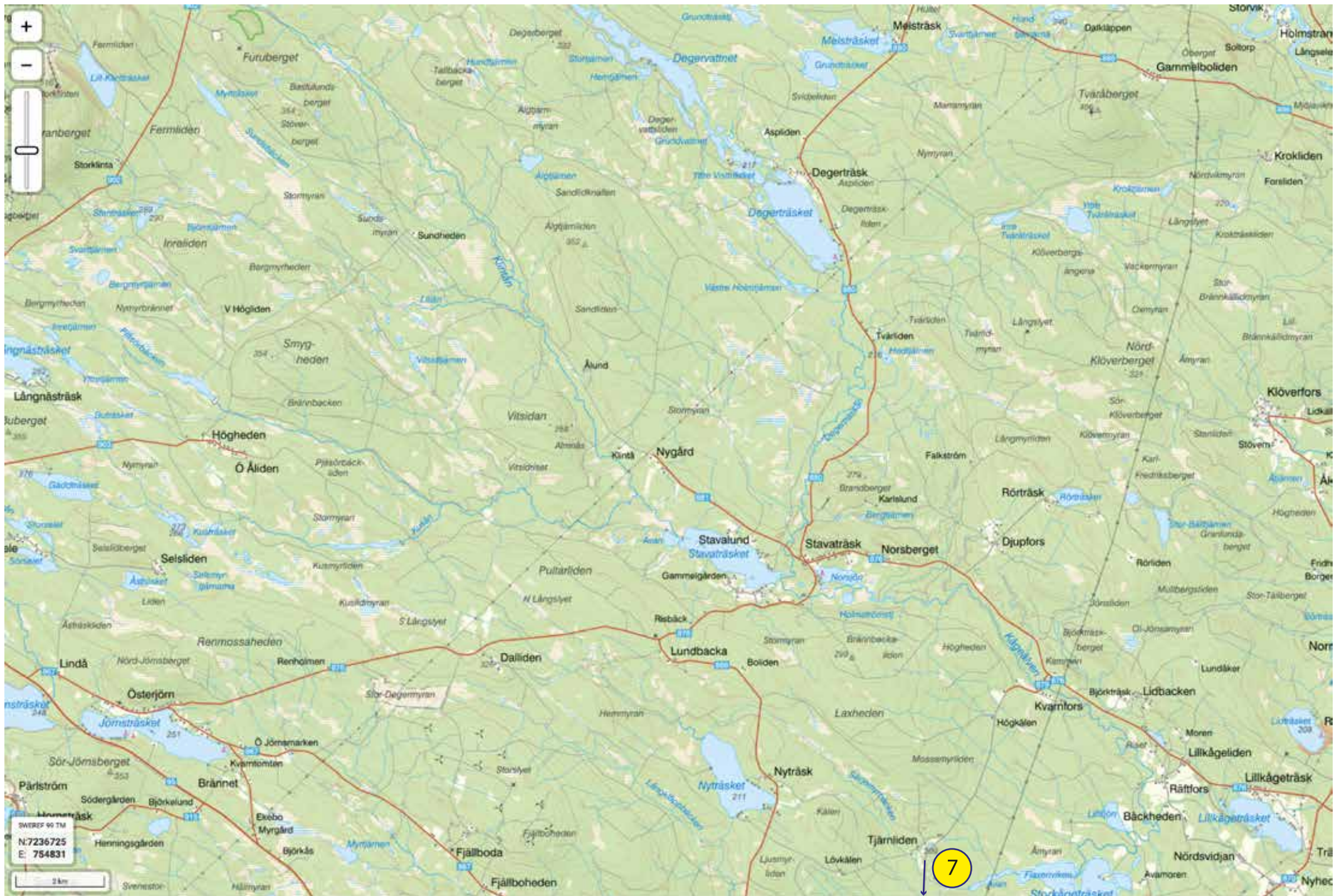
- Rijd vanaf het aangegeven beginpunt via de genummerde pijlen, in nummer volgorde, de kortste route naar het aangegeven eindpunt.
 - Onder iedere pijl wordt geacht een weg/weggedeelte te liggen.
 - Een pijl dient van voet tot punt zo nauwkeurig mogelijk bereden te worden.
 - Van het aangegeven punt naar de 1e pijl, van pijl naar pijl en van de laatste pijl naar een aangegeven punt dient steeds de kortste route geconstrueerd en bereden te worden.
 - Pijlen of gedeelten van pijlen mogen ook worden bereden als ze nog niet aan de beurt zijn of als ze al aan de beurt zijn geweest, maar alleen in voorwaartse richting.
 - Kruisen en raken van pijlen is toegestaan.
 - Wegen en samenkomsten van wegen mogen slechts in één richting bereden worden.
-
- **Etappe Info:**
 - **Leg: 5**
 - **Stage: 1**
 - **Etappe: 7**
 - **Traject van: TC6 naar TC7**
 - **Afstand: 167 Kilometer**
 - **Etappetijd: 167 minuten**
 - **Coördinaat Finish: 64.807298, 20.687510**

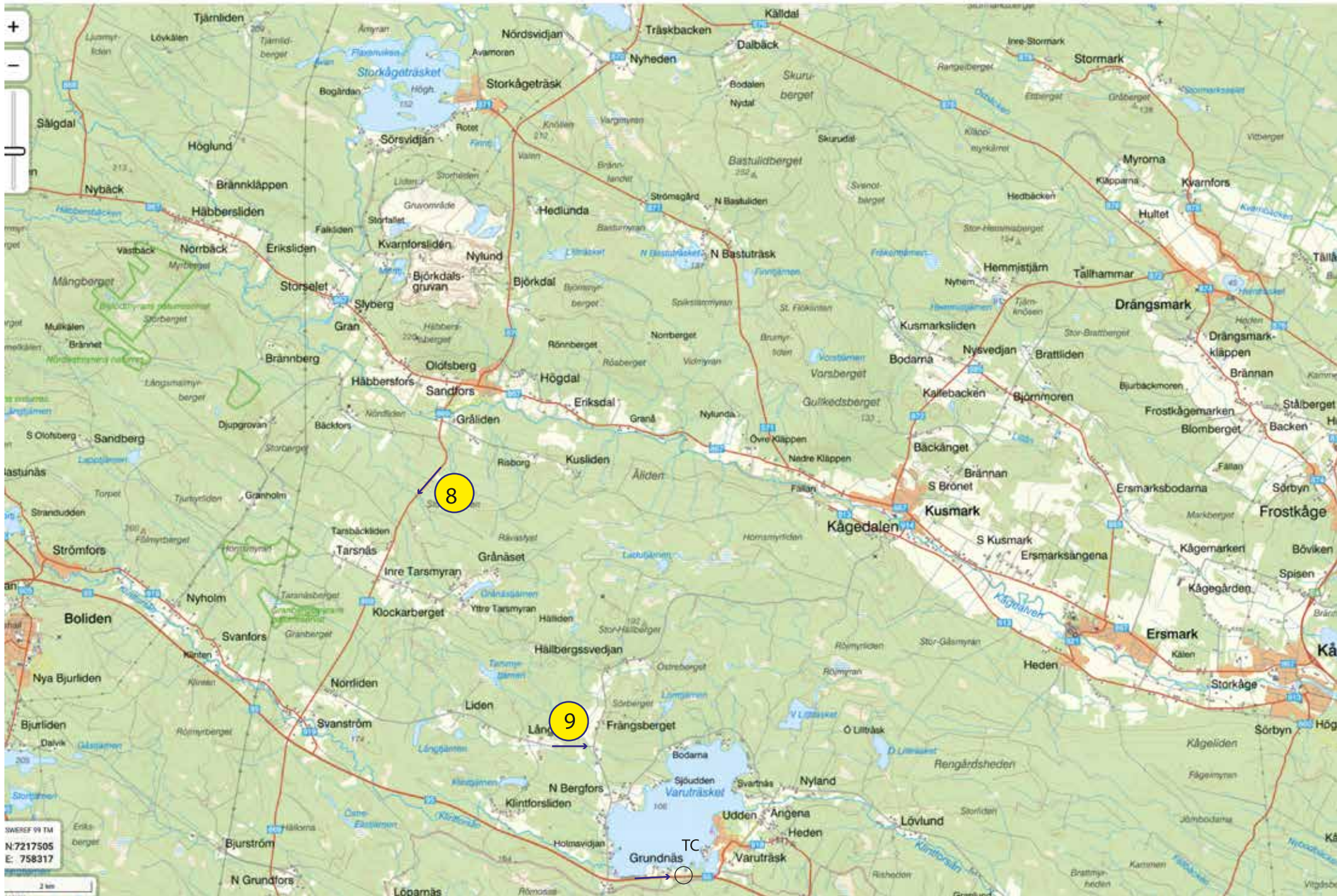












8

9

SWEREF 99 TM
N: 7217505
E: 758317


2 km

TC
Grundnäs



Bonusopdracht: 14-01-2025

GEHEIMSCHRIFT



Kraak de code en verdien 200 bonuspunten

Verstuur het antwoord voor 17:00 vandaag.

Breek de code:

IHNSA-NSYUW-MHDLJ-VYHVN

	A	B	C	D	E	F	G	H	I	J	K	L	M	N	O	P	Q	R	S	T	U	V	W	X	Y	Z
A	A	B	C	D	E	F	G	H	I	J	K	L	M	N	O	P	Q	R	S	T	U	V	W	X	Y	Z
B	Z	A	B	C	D	E	F	G	H	I	J	K	L	M	N	O	P	Q	R	S	T	U	V	W	X	Y
C	Y	Z	A	B	C	D	E	F	G	H	I	J	K	L	M	N	O	P	Q	R	S	T	U	V	W	X
D	X	Y	Z	A	B	C	D	E	F	G	H	I	J	K	L	M	N	O	P	Q	R	S	T	U	V	W
E	W	X	Y	Z	A	B	C	D	E	F	G	H	I	J	K	L	M	N	O	P	Q	R	S	T	U	V
F	V	W	X	Y	Z	A	B	C	D	E	F	G	H	I	J	K	L	M	N	O	P	Q	R	S	T	U
G	U	V	W	X	Y	Z	A	B	C	D	E	F	G	H	I	J	K	L	M	N	O	P	Q	R	S	T
H	T	U	V	W	X	Y	Z	A	B	C	D	E	F	G	H	I	J	K	L	M	N	O	P	Q	R	S
I	S	T	U	V	W	X	Y	Z	A	B	C	D	E	F	G	H	I	J	K	L	M	N	O	P	Q	R
J	R	S	T	U	V	W	X	Y	Z	A	B	C	D	E	F	G	H	I	J	K	L	M	N	O	P	Q
K	Q	R	S	T	U	V	W	X	Y	Z	A	B	C	D	E	F	G	H	I	J	K	L	M	N	O	P
L	P	Q	R	S	T	U	V	W	X	Y	Z	A	B	C	D	E	F	G	H	I	J	K	L	M	N	O
M	O	P	Q	R	S	T	U	V	W	X	Y	Z	A	B	C	D	E	F	G	H	I	J	K	L	M	N
N	N	O	P	Q	R	S	T	U	V	W	X	Y	Z	A	B	C	D	E	F	G	H	I	J	K	L	M
O	M	N	O	P	Q	R	S	T	U	V	W	X	Y	Z	A	B	C	D	E	F	G	H	I	J	K	L
P	L	M	N	O	P	Q	R	S	T	U	V	W	X	Y	Z	A	B	C	D	E	F	G	H	I	J	K
Q	K	L	M	N	O	P	Q	R	S	T	U	V	W	X	Y	Z	A	B	C	D	E	F	G	H	I	J
R	J	K	L	M	N	O	P	Q	R	S	T	U	V	W	X	Y	Z	A	B	C	D	E	F	G	H	I
S	I	J	K	L	M	N	O	P	Q	R	S	T	U	V	W	X	Y	Z	A	B	C	D	E	F	G	H
T	H	I	J	K	L	M	N	O	P	Q	R	S	T	U	V	W	X	Y	Z	A	B	C	D	E	F	G
U	G	H	I	J	K	L	M	N	O	P	Q	R	S	T	U	V	W	X	Y	Z	A	B	C	D	E	F
V	F	G	H	I	J	K	L	M	N	O	P	Q	R	S	T	U	V	W	X	Y	Z	A	B	C	D	E
W	E	F	G	H	I	J	K	L	M	N	O	P	Q	R	S	T	U	V	W	X	Y	Z	A	B	C	D
X	D	E	F	G	H	I	J	K	L	M	N	O	P	Q	R	S	T	U	V	W	X	Y	Z	A	B	C
Y	C	D	E	F	G	H	I	J	K	L	M	N	O	P	Q	R	S	T	U	V	W	X	Y	Z	A	B
Z	B	C	D	E	F	G	H	I	J	K	L	M	N	O	P	Q	R	S	T	U	V	W	X	Y	Z	A

Vul de antwoorden in op:

[www.auroraroadtrip.nl/dagpuzzel antwoorden](http://www.auroraroadtrip.nl/dagpuzzel_antwoorden)

1	<input type="text"/>
2	<input type="text"/>
3	<input type="text"/>
4	<input type="text"/>

